

## Задания География, 6 класс

**\*Внимание! На все вопросы возможен только один правильный ответ**

**1. Укажите, почему у земной поверхности воздух тропосферы теплее, чем на высоте.**

- A) нагревается земная поверхность и становится источником тепла
- B) облака отражают и рассеивают солнечные лучи
- C) земная поверхность отражает только часть солнечной энергии
- D) воздух и облака поглощают лишь половину солнечной энергии

**2. Высота любой точки земной поверхности над уровнем океана называется:**

- A) горизонталью
- B) абсолютной высотой
- C) относительной высотой
- D) бергштрихом

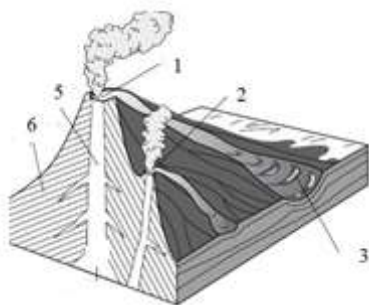
**3. Пролив – это узкое водное пространство, разделяющее участки суши и соединяющее части Мирового океана. Укажите, какой пролив разделяет Африку и остров Мадагаскар.**

- A) Гибралтарский пролив
- B) Берингов пролив
- C) пролив Дрейка
- D) пролив Мозамбикский

**4. Какой населенный пункт имеет следующие координаты: 33°ю.ш.; 151°в.д.?**

- A) Сидней
- B) Сантьяго
- C) Кейптаун
- D) Каир

**5. Укажите, какой цифрой на рисунке обозначено жерло вулкана.**



- A) 6
- B) 2
- C) 3
- D) 5

**6. Как называются ветры, меняющие направление на противоположное два раза в год?**

- A) пассаты
- B) муссоны
- C) бризы
- D) нет правильного ответа

**7. Отметьте, благодаря какому изобретению, которое было запатентовано в Германии в 1913 г., стало возможным изучение больших глубин океана.**

- A) сейсмографа
- B) флюгера
- C) нивелира
- D) эхолота

**8. К какой группе карт относится карта масштабом «в 1 см – 5 км»?**

- A) мелкомасштабных
- B) среднемасштабных
- C) крупномасштабных
- D) нет правильного ответа

**9. Причиной образования пассатов является:**

- A) сила притяжения Луны
- B) разница во влажности воздуха
- C) разница в атмосферном давлении
- D) разница температуры воды в океане

**10. Укажите, где была впервые высказана идея о шарообразности Земли.**

- A) в Древнем Египте
- B) в Древней Греции
- C) в Древней Руси
- D) в средневековой Западной Европе




**11. Укажите, как называется главная часть реки, которая располагается на дне речной долины – более широкого понижения в рельефе.**

- A) русло
- B) устье
- C) дельта
- D) эстуарий

**12. Отметьте верное утверждение.**

- A) Солнце – это самое близкое к Земле тело.
- B) Луна светится отраженным солнечным светом.
- C) Луна совершает один оборот вокруг Земли за одни сутки.
- D) Все утверждения верны.

**13. Отметьте, где изображена растущая Луна.**

A)	B)	C)	D)
			все верны

**14. Укажите последовательность смены поясов освещённости при движении от экватора к полюсу.**

- A) умеренный, тропический, полярный
- B) тропический, умеренный, полярный
- C) полярный, умеренный, тропический
- D) тропический, полярный, умеренный

**15. Земная ось сохраняет постоянное направление на Полярную звезду и наклонена к плоскости орбиты под углом:**

- A)  $0^\circ$
- B)  $23,5^\circ$
- C)  $66,5^\circ$
- D)  $90^\circ$